




W kurniku były trzy grzędę. Na każdej grzędzie siedziało 5 kur.
Ile kur było w kurniku? Namaluj kury a następnie zapisz działanie.



Zapisz działanie za pomocą dodawania:

$$\square + \square + \square = \square$$

Zapisz działanie za pomocą mnożenia:

$$\square * \square = \square$$